



**SOALAN PRAKTIS BESTARI
PROJEK JAWAB UNTUK JAYA (JUJ) 2019**



SIJIL PELAJARAN MALAYSIA

3756/1

PRINSIP PERAKAUNAN

Kertas 1 / Set 1

1 1/4 jam

Satu jam lima belas minit

JANGAN BUKA KERTAS SOALAN INI SEHINGGA DIBERITAHU

1. Kertas soalan ini mengandungi **40** soalan.
2. Jawab **semua** soalan.
3. Tiap-tiap soalan diikuti oleh empat pilihan jawapan, iaitu **A, B, C** dan **D**.
Bagi setiap soalan, pilih **satu** jawapan sahaja. **Hitamkan** jawapan anda pada kertas jawapan objektif yang disediakan.
4. Jika anda hendak menukar jawapan, padamkan tanda yang telah dibuat. Kemudian hitamkan jawapan yang baru.
5. Anda dibenarkan menggunakan kalkulator saintifik yang tidak boleh diprogramkan.

Kertas soalan ini mengandungi 15 halaman bercetak

1. Siapakah pengguna luaran penyata kewangan?

- A Pekerja
- B Pemilik
- C Pihak bank
- D Pihak pengurusan

2. Maklumat berikut merujuk kepada Kedai Bunga Suzana.

- Memulakan perniagaan menjual bunga segar pada 1 Mac 2018
- Tempoh perakaunannya berakhir setiap enam bulan

Tempoh perakaunan Kedai Bunga Suzana adalah...

- A 1 Mac 2018 hingga 1 Ogos 2018
- B 1 Mac 2018 hingga 31 Ogos 2018
- C 1 Mac 2018 hingga 1 September 2018
- D 1 Mac 2018 hingga 30 September 2018

3. Antara berikut, yang manakah berkaitan dengan Chong dan Leong Hardware.

- I Liabiliti terhad
- II Modal disumbangkan oleh pekongsi
- III Didaftarkan di bawah Akta Syarikat 1965
- IV Untung atau rugi diagihkan kepada pekongsi mengikut syarat pembahagian yang dipersetujui

- A I dan II
- B I dan III
- C II dan IV
- D III dan IV

4. Pasangan manakah yang menunjukkan perbezaan belanja operasi dengan belanja bukan operasi bagi sebuah kedai perabot.

	Belanja operasi	Belanja bukan operasi
A	Hutang lapuk	Susut nilai
B	Rugi atas pelupusan aset bukan semasa	Kadar bayaran
C	Sewa kedai	Kerugian akibat bencana alam
D	Faedah atas overdraf bank	Hutang ragu

5. Urus niaga berikut telah berlaku dalam perniagaan Kedai Kasut Karim.

Karim mengeluarkan cek RM4 250 untuk menjelaskan hutangnya kepada Sanjung Enterprise dan menerima diskaun tunai sebanyak RM250.

Apakah kesan urus niaga tersebut terhadap persamaan perakaunan?

	Aset (RM)	Liabiliti (RM)	Ekuiti pemilik (RM)
A	(4 000)	(4 250)	250
B	(4 000)	(4 250)	(250)
C	(4 250)	(4 500)	(250)
D	(4 250)	(4 500)	250

6. Carta akaun Syarikat Teraju Maju adalah seperti berikut.

Kod	Akaun
10000 – 19999	Aset
20000 – 29999	Liabiliti
30000 – 39999	Hasil
40000 - 49999	Belanja

Apakah kod yang betul bagi mewakili Akaun Tunai Runcit?

- A 10100
B 20100
C 30100
D 40100

7. Antara berikut pilih padanan yang betul?

	Akaun barkaitan	Catatan kontra
I	Jualan	Pulangan masuk
II	Modal	Untung bersih
III	Perabot	Susut nilai perabot
IV	Akaun belum terima	Peruntukan hutang ragu

- A I dan II
B II dan III
C III dan IV
D I dan IV

8. Pilih padanan yang betul.


	Urusniaga	Dokumen
A	Deposit tunai ke bank	Slip pindahan wang
B	Beli aset bukan semasa secara kredit	Invois
C	Angkutan dikenakan atas belian barang niaga	Nota kredit
D	Ambilan barang niaga untuk kegunaan pemilik sendiri	Makluman kredit


Soalan 9 dan 10 berdasarkan dokumen berikut.

ASAL	INVOIS	NO:INV4556
	MARVELOUS JUICE ENTERPRISE	
	No.5 Jalan Ahmad Akhbar 26100 Kuantan, Pahang	
Kepada: Restoran Sri Melati 90, Jalan Kenanga 25100 Kuantan Pahang		Tarikh : 16 Mei 2018

Bil	Butir	Harga Seunit (RM)	Kuantiti	Jumlah (RM)
1.	Jus	15.00	300	4 500.00
2.	Kedondong	13.00	100	1 300.00
				5 800.00
	<i>Tolak : Diskaun niaga 10%</i>			580.00
	JUMLAH			5 220.00

Ringgit Malaysia: Lima ribu dua ratus dua puluh sahaja
 Syarat pembayaran: 10% 7 hari, 5% 14 hari
 Angkutan dibayar
 K. & K. di K.


 (Penerima)


 (Pengurus)

Dokumen 1

9. Hitung jumlah yang perlu dibayar oleh Restoran Sri Melati jika dokumen ini dijelaskan Pada 24 Mei 2018.
- A RM4 437
 - B RM4 698
 - C RM4 959
 - D RM5 220
10. Apakah maksud K. & K. di K. pada dokumen di atas?
- A Pembekal berhak membetulkan invois melalui nota debit dan nota kredit.
 - B Pembekal tidak bertanggungjawab terhadap sebarang kecaciran dan dan kerosakan barangan.
 - C Pembeli boleh membaiki kesilapan dalam invois dengan meminta makluman debit dan makluman kredit.
 - D Pembeli hanya boleh menuntut gantian barangan rosak dalam tempoh masa yang dipersetujui antara pembekal dan pembeli
11. Maklumat berikut berkaitan dengan satu dokumen.

Dokumen **X** dikeluarkan oleh pembekal kepada pelanggannya sebagai peringatan baki hutang yang belum dijelaskan.

- Apakah dokumen **X**?
- A Invois
 - B Nota debit
 - C Nota kredit
 - D Penyata akaun
12. Buku catatan asal yang merekod semua urus niaga perniagaan dikenali sebagai...
- A Buku khas
 - B Buku utama
 - C Buku catatan pertama
 - D Buku catatan bulanan

13. Dokumen berikut diberikan seorang pengurus kepada keraninya.

<p>MEMO</p> <p>Tarikh : 30 Jun 2018</p> <p>Kepada : Kerani Akaun</p> <p>Pemilik memasukkan komputer peribadi untuk kegunaan perniagaan.</p> <p style="text-align: right;"><i>Syasya</i></p> <p style="text-align: right;">.....</p> <p style="text-align: right;">T.T. Pengurus</p>
--

Dokumen 2

Catatan dalam Jurnal Am manakah yang perlu dibuat oleh keraninya?

	Debit	Kredit
A.	Akaun Alatan Pejabat	Akaun Modal
B.	Akaun Alatan Pejabat	Akaun Bank
C.	Akaun Modal	Akaun Alatan Pejabat
D.	Akaun Bank	Akaun Alatan Pejabat

14. Pasangan manakah yang betul untuk merekod urus niaga dalam buku catatan pertama?

	Urus niaga	Buku catatan pertama
A	Belian barang niaga secara kredit	Jurnal belian
B	Belian aset bukan semasa dengan cek	Jurnal am
C	Pelanggan memulangkan barang niaga kerana rosak	Jurnal pulangan belian
D	Pemilik mengambil komputer pejabat untuk kegunaan peribadi	Jurnal jualan

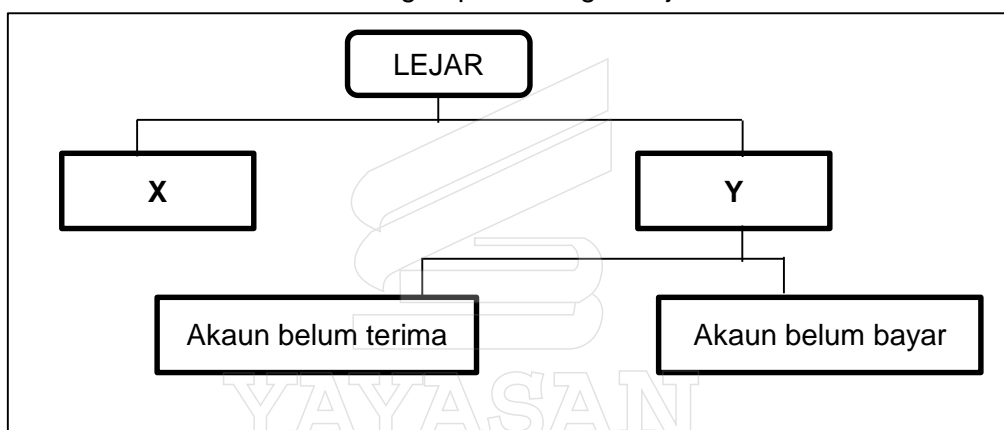
15. Maklumat berikut diambil daripada Buku Tunai Runcit Filzah Trading.

	Akaun	RM
1 Sept. 2018	Jumlah penerimaan	400
1 – 30 Sept. 2018	Jumlah pembayaran	375
30 Sept. 2018	Baki akhir	25

Berdasarkan Sistem Panjar, berapakah jumlah wang yang perlu dituntut daripada juruwang?

- A RM25
- B RM375
- C RM400
- D RM425

16. Maklumat berikut berkaitan dengan pembahagian lejar.



Rajah 1

Apakah X dan Y?

	X	Y
A	Lejar am	Lejar subsidiari
B	Lejar jualan	Lejar belian
C	Lejar subsidiari	Lejar am
D	Lejar belian	Lejar jualan

17. Kesan sistem catatan bergu jika tidak digunakan dalam merekod urus niaga ialah

- I Imbangan duga seimbang
- II Untung rugi yang diperoleh tidak tepat
- III Kedudukan kewangan tidak dapat ditentukan dengan tepat
- IV Perbandingan prestasi perniagaan antara tahun yang disediakan lebih tepat

- A I dan II
- B II dan III
- C III dan IV
- D I dan IV

18. Pemilik Butik Persona Jelita membuat catatan bergu seperti berikut:

Debit	Kredit
Promosi	Belian

Urus niaga manakah yang ditunjukkan dengan catatan di atas?

- A Pemilik mengambil 2 helai tudung untuk kegunaan isterinya.
- B 20 helai tudung didermakan kepada Rumah Anak-anak Yatim.
- C Pekerja mengambil sehelai baju untuk dipakaikan pada patung di kedai.
- D Pemilik menghadihkan 10 pasang baju kurung kepada rumah warga tua sempena Hari Raya Aidilfitri.

19. Dalam keadaan manakah Akaun Kawalan Belum Bayar mempunyai baki debit?

- I Pembekal mengenakan faedah
- II Pembekal memberi diskaun selepas menjelaskan hutang
- III Perniagaan memulangkan barang selepas pembayaran dibuat
- IV Perniagaan membuat bayaran kurang dari jumlah sebenar hutang

- A I dan II
- B I dan IV
- C II dan III
- D III dan IV

20. Apakah butiran yang menyebabkan kos jualan meningkat?

- I Belian
- II Pulangan belian
- III Angkutan keluar
- IV Angkutan masuk

- A I dan II
- B I dan IV
- C II dan III
- D III dan IV

21. Salbiah Trading mempunyai empat jenis inventori yang belum dijual pada 30 April 2019. Maklumat berikut merupakan nilai kos dan harga pasaran bagi setiap jenis inventori.

Barang	Kos (RM)	Harga pasaran (RM)
E	200	177
F	700	2 000
G	720	120
H	162	241

Berapakah nilai inventori akhir?

- A RM1 159
- B RM1 782
- C RM2 538
- D RM3 161

22. Maklumat berikut diperolehi daripada buku perniagaan Bestari Enterprise.

	RM
Inventori awal	5 000
Perabot	9 500
Tunai	800
Overdraf bank	3 000
Akaun belum terima	12 000
Akaun belum bayar	2 500

Berapakah modal kerja?

- A RM7 300
- B RM12 300
- C RM13 300
- D RM21 800

23. Maklumat berikut yang manakah merupakan penutupan Akaun Hasil dan Akaun Belanja.

- I Hasil dan belanja perlu dipindahkan ke penyata kedudukan kewangan.
- II Hasil dan belanja hanya perlu dikira dalam tempoh perakaunan semasa sahaja
- III Hasil dan belanja yang terlibat secara langsung dengan barang niaga perniagaan akan dipindahkan ke akaun untung rugi
- IV Hasil dan belanja yang terlibat secara langsung dengan barang niaga perniagaan akan dipindahkan ke akaun perdagangan

- A I dan II
- B I dan IV
- C II dan III
- D III dan IV

24. Maklumat berikut merujuk kepada Syahid Sohor Enterprise.

Syahid Sohor Enterprise telah menyimpan lebih wang perniagaannya sebanyak RM50 000 sebagai simpanan tetap di sebuah bank pada 1 April 2017 selama 3 tahun. Kadar faedahnya ialah 4% setahun dibayar pada akhir tiap-tiap enam bulan. Faedah telah diterima pada tarikh yang ditetapkan. Tahun perakaunan Syahid Sohor Enterprise berakhir pada setiap 31 Disember.

Hitungkan faedah yang masih belum diterima bagi tempoh kewangan berakhir 31 Disember 2018?

- A RM500
- B RM1 500
- C RM2 000
- D RM3 500

25. Imbangan Duga berikut diperoleh daripada VictoriaTrading.

Butir	Debit (RM)	Kredit (RM)
Perabot	15 000	
Alatan pejabat	10 000	
Akaun belum terima	12 000	
Akaun belum bayar		11 700
Gaji	1 300	
Alat tulis	200	
Komisen diterima		800
Hutang lapuk terpulih		400
Belian	15 000	
Jualan		25 000
Bank	2 400	
Modal		20 000
Sewa	2 000	

Selepas Imbangan Duga disediakan, kesilapan berikut dikesan:

- Belian dan jualan masing-masing terlebih rekod sebanyak RM1 500.
- Alat tulis sebanyak RM500 telah direkod sebagai alatan pejabat.

Berapakah jumlah Imbangan Duga Terselaras?

- RM55 900
- RM56 400
- RM56 900
- RM59 400

26. Maklumat berikut diperoleh daripada buku perniagaan pelbagai firma bagi tahun berakhir 31 Oktober 2018.

	Firma Auni (RM)	Firma Basri (RM)	Firma Chin (RM)	Firma Din (RM)
Untung kasar	100 000	120 000	140 000	180 000
Untung bersih	65 000	80 000	95 000	90 000
Modal awal	500 000	400 000	400 000	600 000

Berdasarkan analisis nisbah Pulangan atas Modal, firma manakah terbaik untuk membuat pelaburan?

- Firma Auni
- Firma Basri
- Firma Chin
- Firma Din

27. Apakah yang dimaksudkan dengan kadar pusing ganti inventori yang tinggi?

- I Jualan inventori amat laris
- II Tukar ganti inventori terlalu kerap
- III Tidak cekap dalam mengurus inventori
- IV Modal yang terikat pada inventori amat tinggi

- A I dan II
- B I dan IV
- C II dan III
- D III dan IV

28. Puan Suhaida tidak menyimpan buku akaun dengan lengkap. Maklumat berikut diperoleh pada 31 Disember 2018.

2018		RM
Jan. 1	Kadar bayaran belum bayar	280
Dis. 31	Jumlah pembayaran kadar bayaran	600
	Kadar bayaran belum bayar	360

Berapakah jumlah kadar bayaran yang direkodkan dalam akaun untung rugi bagi tahun berakhir 31 Disember 2018?

- A RM40
- B RM680
- C RM720
- D RM1 240

29. Bagaimanakah untung bersih dikira jika peniaga tidak menyimpan rekodnya dengan lengkap?

- A Modal Akhir – Ambilan + Modal Awal + Modal Tambahan
- B Modal Akhir + Ambilan + Modal Awal - Modal Tambahan
- C Modal Akhir + Ambilan - Modal Awal - Modal Tambahan
- D Modal Akhir - Ambilan - Modal Awal + Modal Tambahan

30. Butiran manakah yang **bukan** tujuan kawalan tunai dilaksanakan?

- A Mengelakkan berlakunya kecurian
- B Supaya pentadbiran berjalan lancar
- C Mengurangkan risiko penyelewengan tunai
- D Memastikan tunai perniagaan digunakan secara optimum

31. Petikan Penyata Bank dan Buku Tunai berikut diperoleh daripada Kedai Buku Pelangi Pintar.

Penyata Bank

Tarikh	Butir	No. Cek	Debit	Kredit	Baki
2018			RM	RM	RM
Jun 19	Deposit	300453		460.00	

Buku Tunai(Bahagian Debit)

Tarikh	Butir	Bank
2018		RM
Jun 15	Seroja Trading (300453)	640.00

Apakah catatan yang perlu dibuat untuk mengemas kini Buku Tunai?

- A Debit RM180
 - B Debit RM460
 - C Kredit RM180
 - D Kredit RM460
32. Butiran yang manakah direkodkan di sebelah kredit Akaun Semasa pekongsi?
- I Kongsi rugi
 - II Gaji pekongsi
 - III Faedah atas modal
 - IV Faedah atas ambilan
- A I dan II
 - B I dan IV
 - C II dan III
 - D III dan IV
33. Petikan Akaun Realisasi berikut diperoleh daripada buku Perkongsian Masri dan Maznah.

Akaun Realisasi

2019		RM	2019		RM
Mac 31	Perabot	4 800	Mac 31	Bank	21 400
	Kenderaan	18 000		Bank	5 500
	Akaun belum terima	6 000		Akaun belum bayar	600
	Bank	2 000			

Untung atau rugi dibahagi antara Masri dan Maznah dengan nisbah 1:2.

Berapakah untung atau rugi bagi Maznah?

- A Rugi RM1 100
- B Rugi RM2 200
- C Untung RM1 100
- D Untung RM2 200

34. Berikut merupakan ciri-ciri Syer Biasa dan Syer Keutamaan. Pasangan yang manakah **tidak benar**?

	Ciri-ciri	Syer Biasa	Syer Keutamaan
A	Kadar dividen	Kadar dividen tidak tetap	Kadar dividen tetap
B	Tunggakan dividen	Tiada tunggakan dividen	Tunggakan dividen akan dibayar kepada pemegang Syer Keutamaan pada tahun perakaunan yang lain
C	Keutamaan pembayaran dividen	Dividen diberikan sekiranya ada lebih daripada keuntungan syarikat setelah dividen Syer Keutamaan dibayar.	Menerima dividen terlebih dahulu daripada pemegang syer biasa
D	Hak mengundi	Tiada hak mengundi untuk melantik lembaga pengarah dalam Mesyuarat Agung Tahunan	Mempunyai hak mengundi untuk melantik lembaga pengarah dalam Mesyuarat Agung Tahunan

35. Syarikat Jasmin Berhad telah didaftarkan dengan modal dibenarkan yang terdiri daripada 50 000 unit 8% syer keutamaan bernilai RM2.00 sesyer dan 500 000 unit syer biasa bernilai RM1.00 sesyer. Semua syer telah diterbitkan dan dibayar penuh oleh orang ramai.

Jadual di bawah ini menunjukkan keuntungan syarikat yang diperuntukkan untuk pembayaran dividen bagi tahun 2016 hingga 2018.

Tahun	Keuntungan (RM)
2016	12 000
2017	6 000
2018	18 000

Berapakah jumlah dividen yang diterima oleh pemegang syer keutamaan pada tahun 2018?

- A RM6 000
- B RM8 000
- C RM10 000
- D RM16 000

36. Antara berikut yang manakah **bukan** matlamat penubuhan kelab dan persatuan?
- A Menjana kepentingan ahli.
 - B Berorientasikan keuntungan.
 - C Menyediakan kemudahan kepada ahli.
 - D Mengadakan perkhidmatan sosial, kebudayaan, rekreasi dan sukan kepada ahli.

37. Maklumat berikut diperoleh daripada bendahari Kelab Badminton Maju.

	1 Julai 2018	30 Jun 2019
	RM	RM
Yuran belum terima	125	-
Yuran belum terperoleh	-	85

Jumlah yuran yang telah diterima untuk tahun semasa ialah sebanyak RM3 280. Berapakah yuran bagi tahun berakhir 30 Jun 2019?

- A RM3 070
 - B RM3 240
 - C RM3 320
 - D RM3 490
38. Kelab Renang Seri Mahkota telah menerima derma untuk membina tadika kelab. Apakah kesan urus niaga tersebut?
- A Menambahkan pendapatan hasil
 - B Mengurangkan pendapatan hasil
 - C Menambahkan pendapatan modal
 - D Mengurangkan pendapatan modal
39. Antara berikut, yang manakah merupakan butiran kos overhead?
- A Gaji operator kilang
 - B Loji dan mesin kilang
 - C Kadar bayaran pejabat
 - D Susut nilai alat-alat kecil

40. Maklumat berikut merujuk kepada pengeluaran kasut oleh Perusahaan Melissa.

Kos tetap	RM15 000
Harga jualan seunit	RM180.00
Kos berubah seunit	RM90.00

Berapakah jumlah kasut yang perlu dikeluarkan untuk mendapat keuntungan sasaran sebanyak RM30 000?

- A 167 unit
- B 250 unit
- C 333 unit
- D 500 unit

KERTAS SOALAN TAMAT